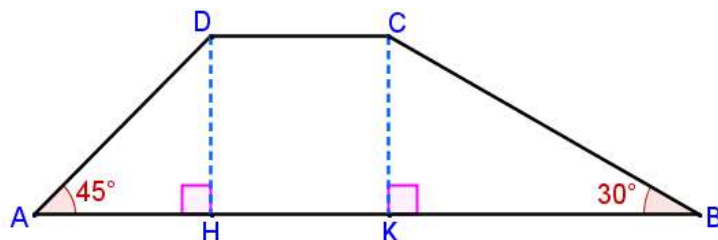


Prova di Matematica: **Problemi di geometria**

1. In un triangolo rettangolo le proiezioni dei cateti sull'ipotenusa misurano 4 cm e 16 cm . Determina il perimetro e l'area del triangolo.

2. Nel trapezio ABCD, nella figura a lato, la base minore è congruente all'altezza del trapezio che misura 10 cm . Determina il perimetro del trapezio.



3. Date le tre rette di equazioni: $x - 2 = 0$, $x - y - 3 = 0$, $y = -x + 5$.
- traccia i grafici delle tre rette;
 - determina i punti di intersezione delle tre rette;
 - determina il perimetro del triangolo delimitato dalle tre rette;
 - determina l'area del triangolo delimitato dalle tre rette.

Soluzione

1. In un triangolo rettangolo le proiezioni dei cateti sull'ipotenusa misurano 4 cm e 16 cm. Determina il perimetro e l'area del triangolo.

Soluzione

$$\overline{BC} = \overline{BH} + \overline{HC} = (4 + 16) \text{ cm} = 20 \text{ cm}.$$

Applichiamo il 2° Teorema di Euclide al triangolo rettangolo ABC:

$$\overline{AH}^2 = \overline{BH} \cdot \overline{HC};$$

$$\overline{AH} = \sqrt{\overline{BH} \cdot \overline{HC}} = \sqrt{4 \cdot 16} \text{ cm} = \sqrt{64} \text{ cm} = 8 \text{ cm}.$$

Applichiamo il Teorema di Pitagora al triangolo rettangolo ABH:

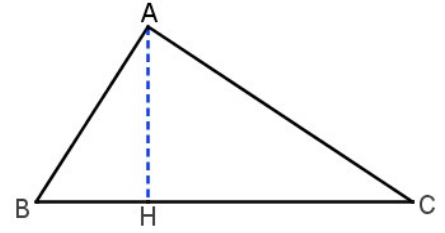
$$\overline{AB} = \sqrt{\overline{BH}^2 + \overline{AH}^2} = \sqrt{4^2 + 8^2} \text{ cm} = \sqrt{16 + 64} \text{ cm} = \sqrt{80} \text{ cm} = \sqrt{16} \cdot \sqrt{5} \text{ cm} = 4\sqrt{5} \text{ cm}.$$

Applichiamo il Teorema di Pitagora al triangolo rettangolo ACH:

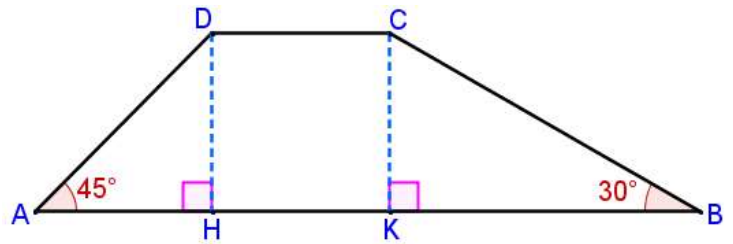
$$\overline{AC} = \sqrt{\overline{HC}^2 + \overline{AH}^2} = \sqrt{16^2 + 8^2} \text{ cm} = \sqrt{256 + 64} \text{ cm} = \sqrt{320} \text{ cm} = \sqrt{64} \cdot \sqrt{5} \text{ cm} = 8\sqrt{5} \text{ cm}.$$

$$p = \overline{AB} + \overline{BC} + \overline{AC} = (4\sqrt{5} + 20 + 8\sqrt{5}) \text{ cm} = (20 + 12\sqrt{5}) \text{ cm}.$$

$$S_{ABC} = \frac{\overline{BC} \cdot \overline{AH}}{2} = \frac{20 \cdot 8}{2} \text{ cm}^2 = 80 \text{ cm}^2.$$



2. Nel trapezio ABCD, nella figura a lato, la base minore è congruente all'altezza del trapezio che misura 10 cm. Determina il perimetro del trapezio.



Soluzione

Essendo l'angolo $\hat{A} = 45^\circ$ e il triangolo ADH rettangolo in H, anche $\hat{ADH} = 45^\circ$.

Pertanto il triangolo ADH è rettangolo e isoscele sulla base AD. Quindi: $\overline{AH} = \overline{DH} = 10 \text{ cm}$.

Applichiamo il Teorema di Pitagora al triangolo rettangolo ADH:

$$\overline{AD} = \sqrt{\overline{AH}^2 + \overline{DH}^2} = \sqrt{10^2 + 10^2} \text{ cm} = \sqrt{100 + 100} \text{ cm} = \sqrt{200} \text{ cm} = \sqrt{100} \cdot \sqrt{2} \text{ cm} = 10\sqrt{2} \text{ cm}.$$

Essendo l'angolo $\hat{B} = 30^\circ$, il triangolo BCK risulta essere la metà del triangolo equilatero di semibase CK.

Quindi $\overline{BC} = 2 \cdot \overline{CK} = 2 \cdot 10 \text{ cm} = 20 \text{ cm}$.

Applichiamo il Teorema di Pitagora al triangolo rettangolo BCK:

$$\overline{KB} = \sqrt{\overline{BC}^2 - \overline{CK}^2} = \sqrt{20^2 - 10^2} \text{ cm} = \sqrt{400 - 100} \text{ cm} = \sqrt{300} \text{ cm} = \sqrt{100} \cdot \sqrt{3} \text{ cm} = 10\sqrt{3} \text{ cm}.$$

$$\overline{AB} = \overline{AH} + \overline{HK} + \overline{KB} = (10 + 10 + 10\sqrt{3}) \text{ cm} = (20 + 10\sqrt{3}) \text{ cm}.$$

$$p = \overline{AB} + \overline{BC} + \overline{DC} + \overline{AD} = (20 + 10\sqrt{3} + 20 + 10 + 10\sqrt{2}) \text{ cm} = (50 + 10\sqrt{3} + 10\sqrt{2}) \text{ cm}.$$

3. Date le tre rette di equazioni: $x - 2 = 0$, $x - y - 3 = 0$, $y = -x + 5$.

- traccia i grafici delle tre rette;
- determina i punti di intersezione delle tre rette;
- determina il perimetro del triangolo delimitato dalle tre rette;
- determina l'area del triangolo delimitato dalle tre rette.

Soluzione

Determiniamo i punti di intersezione delle tre rette:

$$\begin{cases} x - 2 = 0 \\ y = -x + 5 \end{cases} \quad \begin{cases} x = 2 \\ - \end{cases} \quad \begin{cases} y = -2 + 5 \\ - \end{cases} \quad \begin{cases} x = 2 \\ y = 3 \end{cases} \Rightarrow A(2; 3)$$

$$\begin{cases} x - 2 = 0 \\ y = x - 3 \end{cases} \quad \begin{cases} x = 2 \\ - \end{cases} \quad \begin{cases} y = 2 - 3 \\ - \end{cases} \quad \begin{cases} x = 2 \\ y = -1 \end{cases} \Rightarrow B(2; -1)$$

$$\begin{cases} y = -x + 5 \\ y = x - 3 \end{cases} \quad \begin{cases} x - 3 = -x + 5 \\ - \end{cases} \quad \begin{cases} x + x = 3 + 5 \\ - \end{cases} \quad \begin{cases} 2x = 8 \\ - \end{cases}$$

$$\begin{cases} x = 4 \\ - \end{cases} \quad \begin{cases} y = 4 - 3 \\ - \end{cases} \quad \begin{cases} x = 4 \\ y = 1 \end{cases} \Rightarrow C(4; 1)$$

$$\overline{AB} = |y_A - y_B| = |3 - (-1)| = |3 + 1| = 4.$$

$$\overline{AC} = \sqrt{(x_A - x_C)^2 + (y_A - y_C)^2} = \sqrt{(2 - 4)^2 + (3 - 1)^2} = \sqrt{(-2)^2 + (2)^2} = \sqrt{4 + 4} = \sqrt{8} = 2\sqrt{2}.$$

$$\overline{BC} = \sqrt{(x_B - x_C)^2 + (y_B - y_C)^2} = \sqrt{(2 - 4)^2 + (-1 - 1)^2} = \sqrt{(-2)^2 + (-2)^2} = \sqrt{8} = 2\sqrt{2}.$$

$$p = \overline{AB} + \overline{BC} + \overline{AC} = (4 + 2\sqrt{2} + 2\sqrt{2}) \text{ cm} = (4 + 4\sqrt{2}) \text{ cm}.$$

Essendo le rette AC e BC perpendicolari tra loro ($m_{AC} = -\frac{1}{m_{BC}}$), AC e BC rappresentano i cateti del triangolo rettangolo ABC.

Pertanto l'area è:

$$S_{ABC} = \frac{\overline{AC} \cdot \overline{BC}}{2} = \frac{2\sqrt{2} \cdot 2\sqrt{2}}{2} \text{ cm}^2 = 4 \text{ cm}^2.$$

