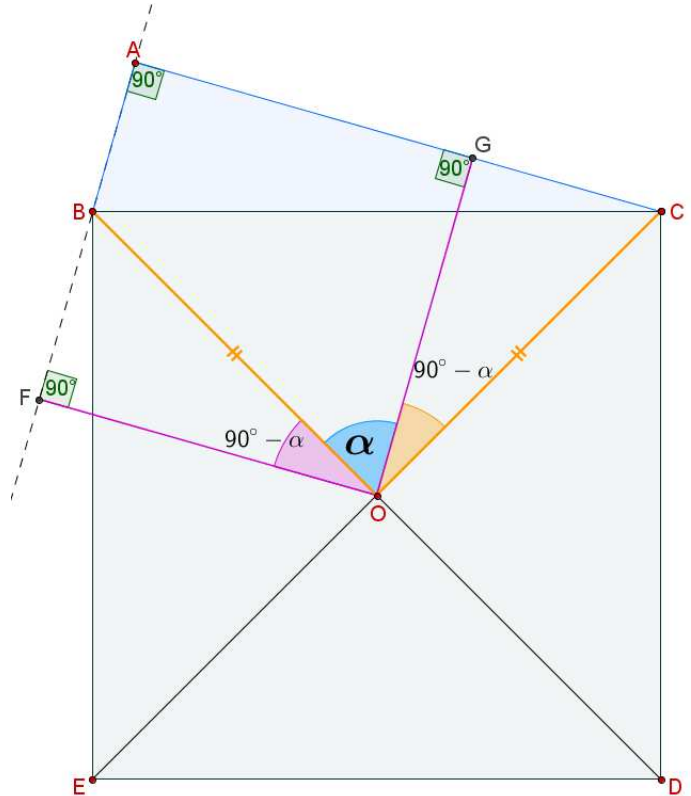


MATEMATICA

Quesiti

Quesito 1

Sia ABC un triangolo rettangolo in A . Sia O il centro del quadrato $BCDE$ costruito sull'ipotenusa, dalla parte opposta al vertice A . Dimostrare che O è equidistante dalle rette AB e AC .



IPOTESI

TESI

$\hat{A} = 90^\circ$ $BCDE$ è un quadrato O è il centro del quadrato	\Rightarrow	$d(O; AB) = d(O; AC)$
--	---------------	-----------------------

Dimostrazione

Ricordiamo innanzitutto che il centro del quadrato è il punto di intersezione delle due diagonali. Inoltre le diagonali di un quadrato sono congruenti, perpendicolari tra loro e si dimezzano scambievolmente.

Tracciamo quindi i segmenti di perpendicolare OF e OG condotti dal punto O ai lati AB e AC del triangolo ABC .

Dimostrare che O è equidistante dalle rette AB e AC equivale a dimostrare che $OF \cong OG$.

Per dimostrare che $OF \cong OG$, è sufficiente dimostrare che i triangoli OBF e OCG sono congruenti.

I triangoli OBF e OCG sono congruenti per il II Criterio di congruenza generalizzato dei triangoli. Infatti:

$OB \cong OC$ perché sono le semidiagonali;

$\widehat{OFB} \cong \widehat{OGC}$ perché, per costruzione, sono angoli retti;

$\widehat{BOF} \cong \widehat{COG}$ perché angoli complementari dello stesso angolo \widehat{BOG}

Avendo dimostrato che i triangoli OBF e OCG sono congruenti, essi hanno i lati corrispondenti congruenti.

In particolare $OF \cong OG$.

c.v.d.

Quesito 2

Un dado truccato, con le facce numerate da 1 a 6, gode della proprietà di avere ciascuna faccia pari che si presenta con probabilità doppia rispetto a ciascuna faccia dispari.

Calcolare le probabilità di ottenere, lanciando una volta il dado, rispettivamente:

- un numero primo
- un numero almeno pari a 3
- un numero al più pari a 3

Soluzione

La probabilità che esca un numero pari è doppia della probabilità che esca un numero dispari.

Poniamo quindi la probabilità che esca un numero dispari = p .

Quindi la probabilità che esca un numero pari è = $2p$

L'evento certo "Esce un numero pari o un numero dispari" è uguale a 1.

Cioè: $P(1 \vee 2 \vee 3 \vee 4 \vee 5 \vee 6) = p + 2p + p + 2p + p + 2p = 1$;

Da cui si ottiene: $9p = 1$; $p = \frac{1}{9}$.

a. I numeri primi da 1 a 6 sono: 2, 3, 5.

$$P(2 \vee 3 \vee 5) = P(2) + P(3) + P(5) = \frac{2}{9} + \frac{1}{9} + \frac{1}{9} = \frac{4}{9}.$$

b. I numeri maggiori o uguali a 3 sono: 3, 4, 5, 6.

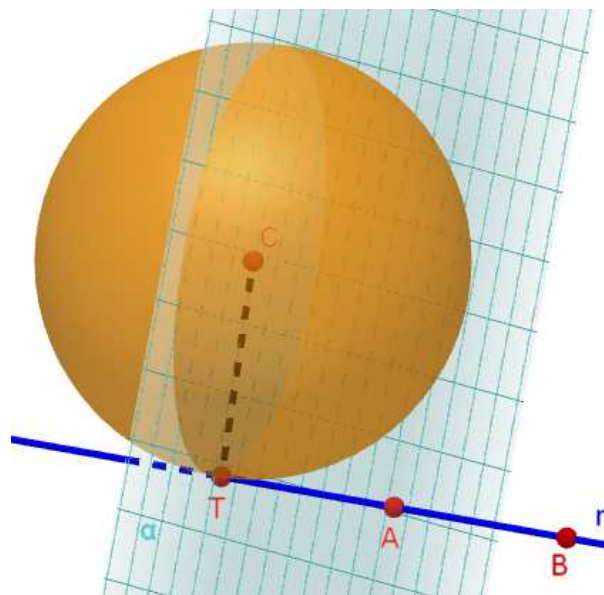
$$P(3 \vee 4 \vee 5 \vee 6) = P(3) + P(4) + P(5) + P(6) = \frac{1}{9} + \frac{2}{9} + \frac{1}{9} + \frac{2}{9} = \frac{6}{9} = \frac{2}{3}.$$

c. I numeri minori o uguali a 3 sono: 1, 2, 3.

$$P(1 \vee 2 \vee 3) = P(1) + P(2) + P(3) = \frac{1}{9} + \frac{2}{9} + \frac{1}{9} = \frac{4}{9}.$$

Quesito 3

Considerata la retta r passante per i due punti $A(1; -2; 0)$ e $B(2; 3; -1)$, determinare l'equazione cartesiana della superficie sferica di centro $C(1; -6; 7)$ e tangente a r .



Soluzione

Le componenti del vettore $\vec{v}(a; b; c) = \overrightarrow{AB}$ $\vec{v}(a; b; c) = (x_B - x_A; y_B - y_A; z_B - z_A)$	$\vec{v}(a; b; c) = (2 - 1; 3 + 2; -1 - 0) = (1; 5; -1)$
L'equazione parametrica della retta AB passante per il punto $A(x_A; y_A; z_A)$ e di vettore direzione $\vec{v}(a; b; c)$ è:	$\begin{cases} x = x_A + a t \\ y = y_A + b t \\ z = z_A + c t \end{cases} \quad \begin{cases} x = 1 + t \\ y = -2 + 5 t \\ z = -t \end{cases}$

Determiniamo l'equazione del piano α passante per il centro $C(x_C; y_C; z_C)$ della circonferenza e perpendicolare alla retta r . Il piano α ha il vettore normale uguale al vettore \vec{v} della retta r .

L'equazione del piano α passante per il punto $C(x_C; y_C; z_C)$ e di vettore normale $\vec{v}(a; b; c)$ è: $a(x - x_C) + b(y - y_C) + c(z - z_C) = 0$	$\begin{aligned} 1(x - 1) + 5(y + 6) - 1(z - 7) &= 0; \\ x - 1 + 5y + 30 - z + 7 &= 0; \\ x + 5y - z + 36 &= 0; \end{aligned}$
--	--

Determiniamo il punto di intersezione T fra il piano α e la retta r :

$\begin{cases} x = 1 + t \\ y = -2 + 5 t \\ z = -t \\ x + 5y - z + 36 = 0 \end{cases}$	$\begin{aligned} 1 + t + 5(-2 + 5t) - (-t) + 36 &= 0; \\ 1 + t - 10 + 25t + t + 36 &= 0; \\ 27t + 27 &= 0; \quad t = -1. \end{aligned}$ $\begin{cases} x = 1 - 1 = 0 \\ y = -2 + 5 \cdot (-1) \\ z = -(-1) \end{cases} \quad T(0; -7; 1)$
--	---

Determiniamo il raggio \overline{CT} della superficie sferica di centro $C(1; -6; 7)$ e tangente alla retta r .

$\overline{CT} = \sqrt{(x_T - x_C)^2 + (y_T - y_C)^2 + (z_T - z_C)^2}$	$\overline{CT} = \sqrt{(0 - 1)^2 + (-7 + 6)^2 + (1 - 7)^2} = \sqrt{38}$.
--	---

Determiniamo l'equazione cartesiana della superficie sferica di centro $C(1; -6; 7)$ e tangente alla retta r .

L'equazione della superficie sferica di centro $C(x_C; y_C; z_C)$ e raggio \overline{CT} è: $(x - x_C)^2 + (y - y_C)^2 + (z - z_C)^2 = \overline{CT}^2$	$\begin{aligned} (x - 1)^2 + (y + 6)^2 + (z - 7)^2 &= (\sqrt{38})^2; \\ x^2 + 1 - 2x + y^2 + 36 + 12y + z^2 + 49 - 14z &= 38; \\ x^2 + y^2 + z^2 - 2x + 12y - 14z + 48 &= 0. \end{aligned}$
--	---

Quesito 4

Tra tutti i parallelepipedi a base quadrata di volume V , stabilire se quello di area totale minima ha anche diagonale di lunghezza minima.

Soluzione

Indichiamo il lato del quadrato di base del parallelepipedo = x , $x > 0$.

L'altezza del parallelepipedo è $h = \frac{V}{x^2}$.

La funzione superficie totale del parallelepipedo è:

$$f(x) = p_B \cdot h + 2 \cdot S_B = 4x \cdot \frac{V}{x^2} + 2x^2;$$

$$f(x) = 2x^2 + \frac{4V}{x}.$$

Studiamo tale funzione.

La derivata prima è:

$$f'(x) = 4x - \frac{4V}{x^2}$$

$$f'(x) \geq 0 : \quad 4x - \frac{4V}{x^2} \geq 0 ; \quad \frac{4x^3 - 4V}{x^2} \geq 0 ; \quad 4x^3 - 4V \geq 0 ; \quad x^3 - V \geq 0 ; \quad x^3 \geq V ;$$

$f'(x) \leq 0$	La funzione è decrescente per	$0 < x \leq \sqrt[3]{V}$
$f'(x) \geq 0$	La funzione è crescente per	$x \geq \sqrt[3]{V}$

Il minimo della funzione $f(x)$ si ha per $x = \sqrt[3]{V}$.

Pertanto il parallelepipedo di base quadrata di area totale minima è il cubo.

Determiniamo la funzione diagonale del parallelepipedo applicando il teorema di Pitagora.

La diagonale di base del parallelepipedo è: $d_B = \sqrt{x^2 + x^2} = \sqrt{2x^2} = \sqrt{2} x$.

La diagonale del parallelepipedo è: $d = \sqrt{d_B^2 + h^2} = \sqrt{2x^2 + \frac{V^2}{x^4}}$.

La funzione diagonale è: $d(x) = \sqrt{2x^2 + \frac{V^2}{x^4}}$.

Conviene studiare i punti di massimo e di minimo della funzione $g(x) = [d(x)]^2$ che risultano i medesimi.

Pertanto studiamo la funzione $g(x) = 2x^2 + \frac{V^2}{x^4}$.

La derivata prima è:

$$g'(x) = 4x - \frac{4V^2}{x^5}$$

$$g'(x) \geq 0 : \quad 4x - \frac{4V^2}{x^5} \geq 0 ; \quad \frac{4x^6 - 4V^2}{x^5} \geq 0 ;$$

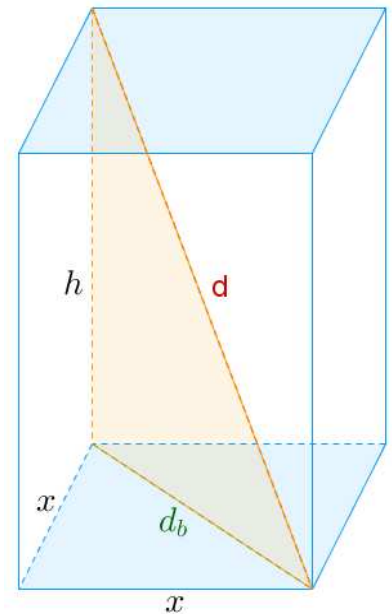
$$4x^6 - 4V^2 \geq 0 ; \quad x^3 - V \geq 0 ; \quad x^3 \geq V .$$

$$x^5 > 0 ; \quad x > 0 .$$

$f'(x) \leq 0$	La funzione è decrescente per	$0 < x \leq \sqrt[3]{V}$
$f'(x) \geq 0$	La funzione è crescente per	$x \geq \sqrt[3]{V}$

Il minimo della funzione $g(x)$ si ha per $x = \sqrt[3]{V}$.

Pertanto il parallelepipedo di base quadrata di diagonale minima è sempre il cubo.



Quesito 5

Determinare l'equazione della retta tangente alla curva di equazione $y = \sqrt{25 - x^2}$ nel suo punto di ascissa 3, utilizzando due metodi diversi.

Metodo 1

L'equazione della retta tangente alla curva è data da: $y - y_p = m_t \cdot (x - x_p)$ dove:

$$x_p = 3;$$

$$y_p = f(x_p) = f(3) = \sqrt{25 - 3^2} = \sqrt{16} = 4;$$

$$m_t = f'(x = 3) = -\frac{3}{\sqrt{25 - 3^2}} = -\frac{3}{4}$$

Avendo calcolato precedentemente $f'(x) = \frac{-2x}{2\sqrt{25-x^2}} = -\frac{x}{\sqrt{25-x^2}}$.

Pertanto l'equazione della retta tangente richiesta è:

$$y - 4 = -\frac{3}{4}(x - 3); \quad y - 4 = -\frac{3}{4}x + \frac{9}{4}; \quad y = -\frac{3}{4}x + \frac{25}{4}.$$

Metodo 2

L'equazione $y = \sqrt{25 - x^2}$ rappresenta graficamente una semicirconfenza di centro $O(0; 0)$ e raggio $r = 5$.

Infatti elevando ambo i membri al quadrato si ha:

$$\begin{cases} y^2 = 25 - x^2 \\ y \geq 0 \end{cases} \quad \begin{cases} x^2 + y^2 - 25 = 0 \\ y \geq 0 \end{cases}$$

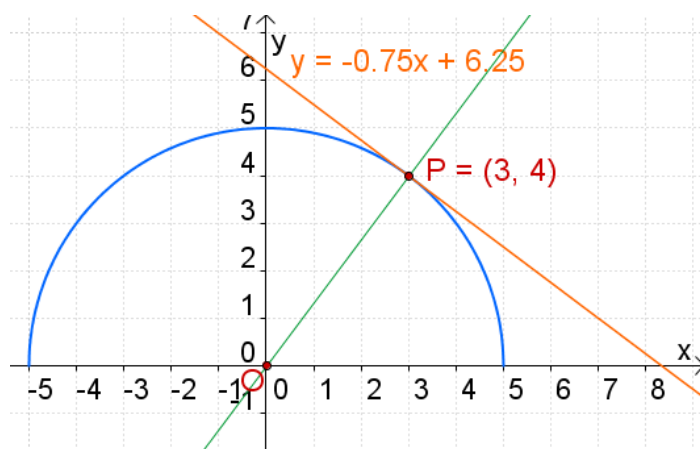
Il punto di tangenza ha coordinate: $P(3; 4)$.

Il coefficiente angolare della retta OP è:

$$m_{OP} = \frac{y_P - y_O}{x_P - x_O} = \frac{4 - 0}{3 - 0} = \frac{4}{3} \quad \Rightarrow \quad m_t = -\frac{1}{m_{OP}} = -\frac{3}{4}.$$

Pertanto l'equazione della retta tangente richiesta è:

$$y - 4 = -\frac{3}{4}(x - 3); \quad y - 4 = -\frac{3}{4}x + \frac{9}{4}; \quad y = -\frac{3}{4}x + \frac{25}{4}.$$



Metodo 3

Utilizzando la formula di sdoppiamento si ottiene l'equazione della retta tangente richiesta.

$$x_p \cdot x + y_p \cdot y + a \cdot \frac{x_p + x}{2} + b \cdot \frac{y_p + y}{2} + c = 0;$$

$$3 \cdot x + 4 \cdot y + 0 \cdot \frac{3 + x}{2} + 0 \cdot \frac{4 + y}{2} - 25 = 0;$$

$$3x + 4y - 25 = 0.$$

Metodo 4

Si impone la condizione di tangenza $\Delta = 0$, risolvendo il sistema $\begin{cases} y - 4 = m \cdot (x - 3) \\ x^2 + y^2 - 25 = 0 \end{cases}$

...

...

Quesito 6

Determinare i valori dei parametri a e b affinché: $\lim_{x \rightarrow 0} \frac{\text{sen } x - (ax^3 + bx)}{x^3} = 1$

Soluzione 1

$$\lim_{x \rightarrow 0} \frac{\text{sen } x - (ax^3 + bx)}{x^3} = \left[\frac{0}{0} \right] \text{ (forma indeterminata)}$$

Le funzioni presenti al numeratore e al denominatore soddisfano le ipotesi del Teorema di De L'Hospital.

Infatti sono continue e derivabili in un intorno dello zero (escluso zero), la derivata del denominatore è diversa da zero in un intorno dello zero (escluso zero).

Applichiamo il Teorema di De L'Hospital :

$$= \lim_{x \rightarrow 0} \frac{\cos x - 3ax^2 - b}{3x^2} = \frac{1-b}{0} = \begin{cases} \infty & \text{se } 1-b \neq 0 \\ \left[\frac{0}{0} \right] & \text{se } 1-b = 0 \end{cases}$$

Scartiamo il primo caso $1-b \neq 0$ perché in questa ipotesi il limite vale infinito (*non vale 1 come richiesto*).

Continuiamo il calcolo considerando il secondo caso $1-b=0$ cioè $b=1$.

$$\text{Per } b=1 \text{ si ha: } \lim_{x \rightarrow 0} \frac{\cos x - 3ax^2 - 1}{3x^2} = \left[\frac{0}{0} \right].$$

Riapplichiamo il Teorema di De L'Hospital :

$$= \lim_{x \rightarrow 0} \frac{-\text{sen } x - 6ax}{6x} = \left[\frac{0}{0} \right].$$

Riapplichiamo il Teorema di De L'Hospital :

$$= \lim_{x \rightarrow 0} \frac{-\cos x - 6a}{6} = \frac{-1-6a}{6}.$$

$$\text{Imponiamo adesso che tale limite valga 1: } \frac{-1-6a}{6} = 1$$

$$\text{Si ottiene: } -1-6a = 6; \quad -6a = 7; \quad a = -\frac{7}{6}.$$

$$\text{Possiamo quindi concludere che: } \lim_{x \rightarrow 0} \frac{\text{sen } x - (ax^3 + bx)}{x^3} = 1 \quad \text{se } a = -\frac{7}{6} \text{ e } b = 1.$$

$$\lim_{x \rightarrow 0} \frac{\text{sen } x - (ax^3 + bx)}{x^3} = \left[\frac{0}{0} \right] \text{ (forma indeterminata)}$$

Con la formula di Taylor approssimiamo la funzione $\text{sen } x$ al terzo ordine per confrontarla con la funzione x^3 che si trova a denominatore:

$$\text{sen } x = x - \frac{x^3}{3!} + o(x^3)$$

$$\begin{aligned} & \lim_{x \rightarrow 0} \frac{\text{sen } x - (ax^3 + bx)}{x^3} = \\ &= \lim_{x \rightarrow 0} \frac{x - \frac{x^3}{6} + o(x^3) - ax^3 - bx}{x^3} = \\ &= \lim_{x \rightarrow 0} \frac{-\left(\frac{1}{6} + a\right)x^3 + (1 - b)x + o(x^3)}{x^3} = \quad \text{ma } \lim_{x \rightarrow 0} \frac{o(x^3)}{x^3} = 0 \\ &= \lim_{x \rightarrow 0} \frac{-\left(\frac{1}{6} + a\right)x^3 + (1 - b)x}{x^3} = \end{aligned}$$

Tale limite è uguale a 1 se: $\begin{cases} 1 - b = 0 \\ -\left(\frac{1}{6} + a\right) = 1 \end{cases} \quad \begin{cases} b = 1 \\ -\frac{1}{6} - a = 1 \end{cases} \quad \begin{cases} b = 1 \\ -1 - 6a = 6 \end{cases} \quad \begin{cases} b = 1 \\ 6a = -7 \end{cases} \quad \begin{cases} b = 1 \\ a = -\frac{7}{6} \end{cases}$

Quesito 7

Si consideri la funzione:

$$f(x) = \begin{cases} -1 + \arctan x & \text{se } x < 0 \\ ax + b & \text{se } x \geq 0 \end{cases}$$

Determinare per quali valori dei parametri reali a, b la funzione è derivabile.

Stabilire se esiste un intervallo di \mathbb{R} in cui la funzione f soddisfa le ipotesi del teorema di Rolle.

Motivare la risposta.

Soluzione

La funzione, $\forall x \neq 0$, è continua e derivabile perché è formata da funzioni continue e derivabili $\forall x \in \mathbb{R}$.

Resta da esaminare il punto $x = 0$.

Verifichiamo innanzitutto che la funzione sia continua in $x = 0$ (condizione necessaria).

Il limite sinistro della funzione in zero è:	$\lim_{x \rightarrow 0^-} (-1 + \arctan x) = -1.$
Il limite destro della funzione in zero è:	$\lim_{x \rightarrow 0^+} (ax + b) = b.$

I due limiti devono coincidere. Pertanto la funzione è continua se $b = -1$.

La derivata prima della funzione è:	$f'(x) = \begin{cases} \frac{1}{1+x^2} & \text{se } x < 0 \\ a & \text{se } x > 0 \end{cases}$
I limite sinistro della derivata in zero è:	$\lim_{x \rightarrow 0^-} \frac{1}{1+x^2} = 1.$
I limite destro della derivata in zero è:	$\lim_{x \rightarrow 0^+} a = a.$

I due limiti devono coincidere. Pertanto $a = 1$.

In definitiva la funzione $f(x)$ è derivabile se: $a = 1 \quad \wedge \quad b = -1$.

Si ottiene la funzione $f(x)$ derivabile e continua $\forall x \in \mathbb{R}$	$f(x) = \begin{cases} -1 + \arctan x & \text{se } x < 0 \\ x - 1 & \text{se } x \geq 0 \end{cases}$
Il cui grafico è:	

Tale funzione, essendo strettamente crescente $\forall x \in \mathbb{R}$, non può soddisfare la terza ipotesi del teorema di Rolle, cioè non può esistere un intervallo chiuso e limitato $[a, b]$ in cui $f(a) = f(b)$.

Quesito 8

Data la funzione $f_a(x) = x^5 - 5ax + a$ definita nell'insieme dei numeri reali, stabilire per quali valori del parametro $a > 0$ la funzione possiede tre zeri reali e distinti.

Soluzione 1

Occorre determinare per quali valori di $a > 0$ il grafico della funzione $f_a(x) = x^5 - 5ax + a$ interseca l'asse x in tre punti distinti. Pertanto occorre studiare il suo grafico.

Trattandosi di una funzione polinomiale, $f_a(x)$ è definita, continua e derivabile $\forall x \in \mathbb{R}$.

$$\lim_{x \rightarrow -\infty} (x^5 - 5ax + a) = -\infty \qquad \lim_{x \rightarrow +\infty} (x^5 - 5ax + a) = +\infty$$

Per il teorema di Bolzano (esistenza degli zeri) la funzione ammette almeno uno zero.

$$f_a'(x) = 5x^4 - 5a$$

$$f_a'(x) \geq 0 : \quad 5x^4 - 5a \geq 0; \quad x^4 - a \geq 0; \quad (x^2 + \sqrt{a})(x^2 - \sqrt{a}) \geq 0;$$

Essendo $x^2 + \sqrt{a} \geq 0 \quad \forall x \in \mathbb{R}$, studiamo solo il fattore $x^2 - \sqrt{a} \geq 0$.

$f_a'(x) \leq 0$	La funzione è decrescente per	$-\sqrt[4]{a} \leq x \leq +\sqrt[4]{a}$
$f_a'(x) \geq 0$	La funzione è crescente per	$x \leq -\sqrt[4]{a} \quad \vee \quad x \geq +\sqrt[4]{a}$

Pertanto:

$$x = -\sqrt[4]{a} \text{ è un punto di massimo relativo} \qquad f_a(-\sqrt[4]{a}) = a + 4a\sqrt[4]{a}$$

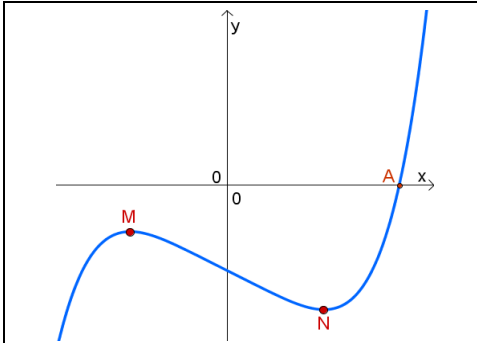
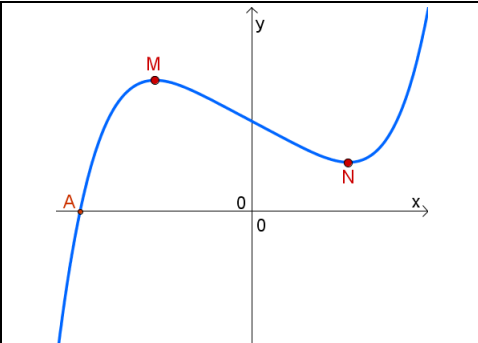
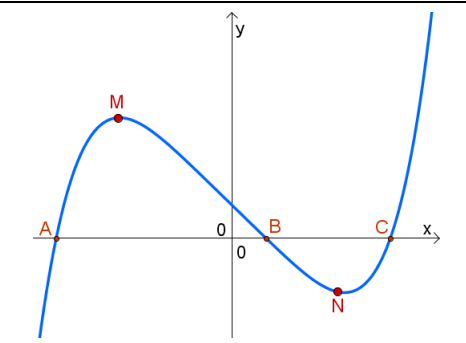
$$x = +\sqrt[4]{a} \text{ è un punto di minimo relativo} \qquad f_a(+\sqrt[4]{a}) = a - 4a\sqrt[4]{a}$$

Calcoli

$$f_a(-\sqrt[4]{a}) = (-\sqrt[4]{a})^5 - 5a(-\sqrt[4]{a}) + a = -\sqrt[4]{a^5} + 5a\sqrt[4]{a} + a = -a\sqrt[4]{a} + 5a\sqrt[4]{a} + a = a + 4a\sqrt[4]{a}$$

$$f_a(+\sqrt[4]{a}) = (\sqrt[4]{a})^5 - 5a(\sqrt[4]{a}) + a = \sqrt[4]{a^5} - 5a\sqrt[4]{a} + a = a\sqrt[4]{a} - 5a\sqrt[4]{a} + a = a - 4a\sqrt[4]{a}$$

La funzione possiede tre zeri reali e distinti quando il massimo e il minimo relativi sono discordi.

		
Il max e il min relativi sono entrambi negativi	Il max e il min relativi sono entrambi positivi	Il max e il min relativi sono discordi
Un solo zero	Un solo zero	Tre zeri reali e distinti

Pertanto deve essere: $(a + 4a\sqrt[4]{a}) \cdot (a - 4a\sqrt[4]{a}) < 0$ con $a > 0$.

Essendo $a + 4a\sqrt[4]{a} > 0 \quad \forall a > 0$, studiamo solo il fattore $a - 4a\sqrt[4]{a} < 0$.

$$a - 4a\sqrt[4]{a} < 0; \qquad a \cdot (1 - 4\sqrt[4]{a}) < 0;$$

Essendo $a > 0$ studiamo solo il fattore $1 - 4\sqrt[4]{a} < 0$;

$$1 - 4\sqrt[4]{a} < 0; \quad 4\sqrt[4]{a} > 1; \quad \sqrt[4]{a} > \frac{1}{4}; \quad a > \left(\frac{1}{4}\right)^4; \quad a > \frac{1}{256}.$$

Soluzione a cura di Giovanni Bellino

Isoliamo il parametro a :

$$x^5 - 5ax + a = 0; \quad x^5 - a \cdot (5x - 1) = 0; \quad a \cdot (5x - 1) = x^5; \quad a = \frac{x^5}{5x - 1}$$

Ponendo $a = y$ si ottiene il seguente sistema equivalente: $\begin{cases} y = a \\ y = \frac{x^5}{5x-1} \end{cases}$

Risolviamo questo sistema tracciando i grafici delle due funzioni.

$y = a$ è l'equazione di un fascio improprio di rette orizzontali.

$y = \frac{x^5}{5x - 1}$ è una funzione razionale fratta il cui dominio è $D = \{x \in \mathbb{R} / x \neq \frac{1}{5}\}$

$$\lim_{x \rightarrow \frac{1}{5}^-} \frac{x^5}{5x - 1} = -\infty \quad \lim_{x \rightarrow \frac{1}{5}^+} \frac{x^5}{5x - 1} = +\infty$$

$$\lim_{x \rightarrow -\infty} \frac{x^5}{5x - 1} = \lim_{x \rightarrow -\infty} \frac{x^4}{5 - \frac{1}{x}} = +\infty \quad \lim_{x \rightarrow +\infty} \frac{x^5}{5x - 1} = \lim_{x \rightarrow +\infty} \frac{x^4}{5 - \frac{1}{x}} = +\infty$$

$$y' = \frac{5x^4 \cdot (5x - 1) - 5 \cdot x^5}{(5x - 1)^2} = \frac{25x^5 - 5x^4 - 5x^5}{(5x - 1)^2} = \frac{20x^5 - 5x^4}{(5x - 1)^2} = \frac{5x^4(4x - 1)}{(5x - 1)^2}$$

$$y' = 0: \quad \frac{5x^4(4x - 1)}{(5x - 1)^2} = 0; \quad 5x^4(4x - 1) = 0; \quad \begin{matrix} 5x^4 = 0 & x = 0 \\ 4x - 1 = 0 & x = \frac{1}{4} \end{matrix}$$

$$y' > 0: \quad \frac{5x^4(4x - 1)}{(5x - 1)^2} > 0; \quad 5x^4(4x - 1) > 0; \quad 4x - 1 > 0; \quad x > \frac{1}{4}$$

$$y' < 0: \quad x < 0 \quad \vee \quad 0 < x < \frac{1}{4}$$

Pertanto:

$x = \frac{1}{4}$ è un punto di minimo relativo per la funzione.

$x = 0$ è un punto di flesso a tangente orizzontale.

$$\text{Calcoliamo: } f_a\left(\frac{1}{4}\right) = \frac{\left(\frac{1}{4}\right)^5}{5 \cdot \frac{1}{4} - 1} = \frac{\left(\frac{1}{4}\right)^5}{\frac{1}{4}} = \left(\frac{1}{4}\right)^4 = \frac{1}{256}$$

Dall'esame del grafico si ricava che la retta $y = a$

ha tre intersezioni con la funzione $y = \frac{x^5}{5x - 1}$ per $a > \frac{1}{256}$.

